

## 12. 斜面をもつ台にはたらく力のつりあい

$\vec{OA}$  と  $\vec{OB}$  が互いに独立であるとする、  
ベクトルと一次独立性より、

$$p\vec{OA} + q\vec{OB} = \vec{0} \Leftrightarrow p = q = 0$$

力はベクトルであるから、

物体にはたらいている外力  $\vec{F}$  は、任意の互いに独立な 2 つの分力  $p\vec{f}_a$ 、 $q\vec{f}_b$  を使うと、

$$p\vec{f}_a + q\vec{f}_b = \vec{F} \text{ と表され、}$$

$\vec{F} = \vec{0}$  のとき、 $p = q = 0$  より、 $p\vec{f}_a = q\vec{f}_b = \vec{0}$  である。

つまり、

物体にはたらいている外力がつりあっているとき、

どの方向に分力をとっても、それぞれの分力の和は 0 となる。

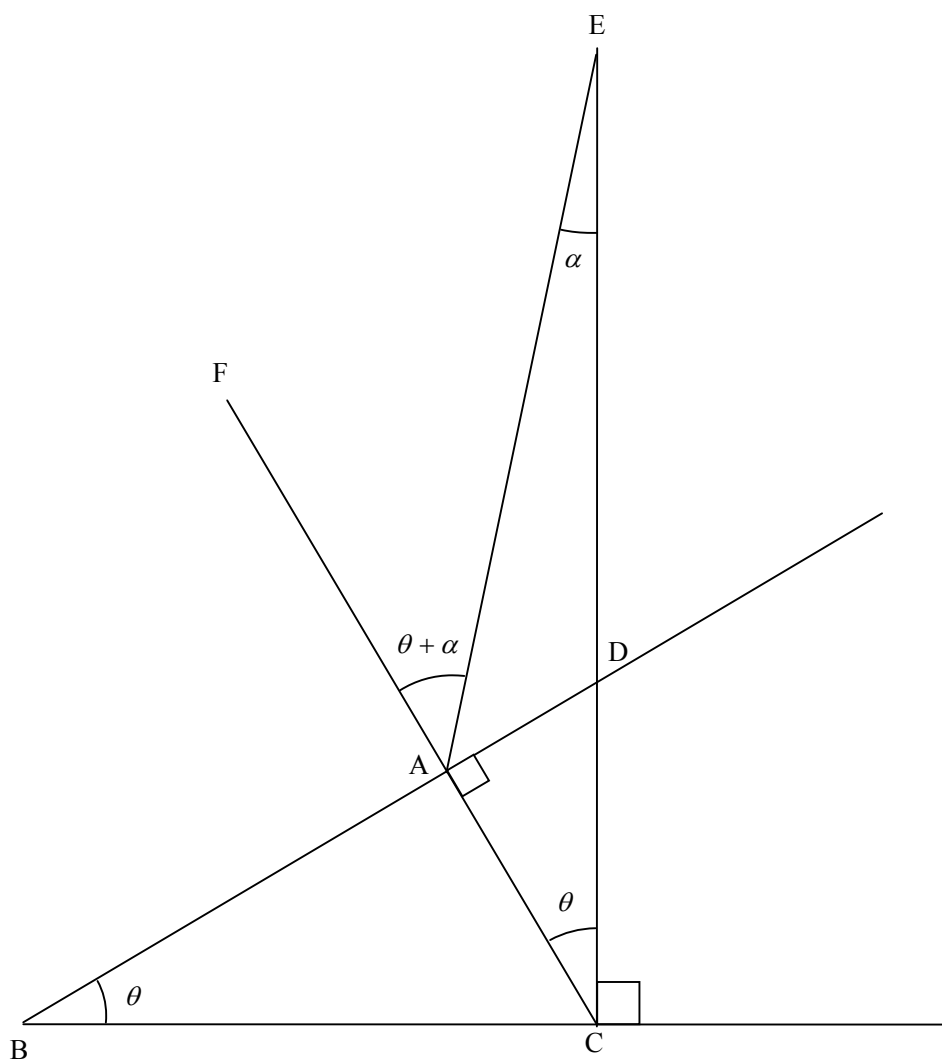
よって、

分力は式処理しやすい向きにとればよい。

〔A〕

(1)

分力をオーソドックスに、斜面に垂直な成分と斜面に沿った成分にした場合

 $\triangle DBC \sim \triangle DCA$  より,  $\angle DCA = \angle DBC = \theta$ よって,  $\triangle ECA$  の内角と外角の関係から, $\angle EAF = \angle ECA + \angle CEA = \theta + \alpha$

これをもとに力を図示すると、下図となる。

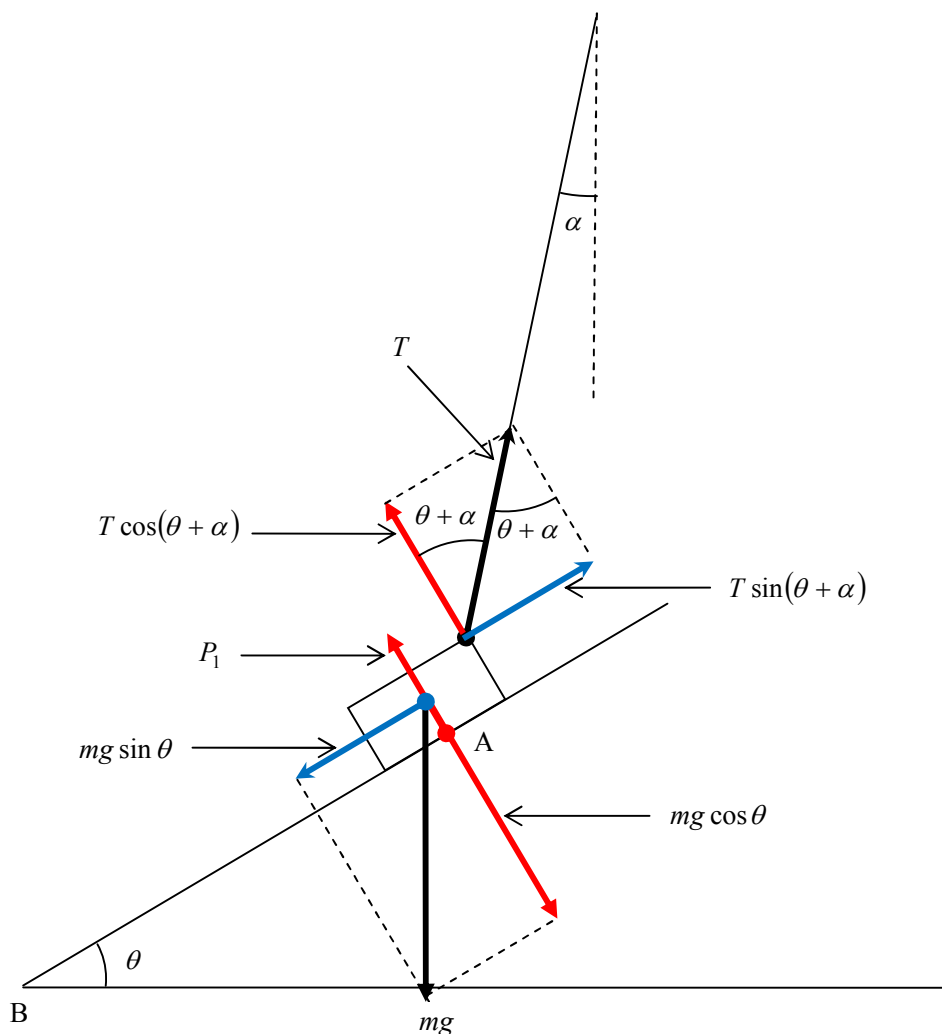
斜面に沿った分力のつりあいより、 $T \sin(\theta + \alpha) = mg \sin \theta$  ……①

斜面に垂直な分力のつりあいより、 $P_1 + T \cos(\theta + \alpha) = mg \cos \theta$  ……②

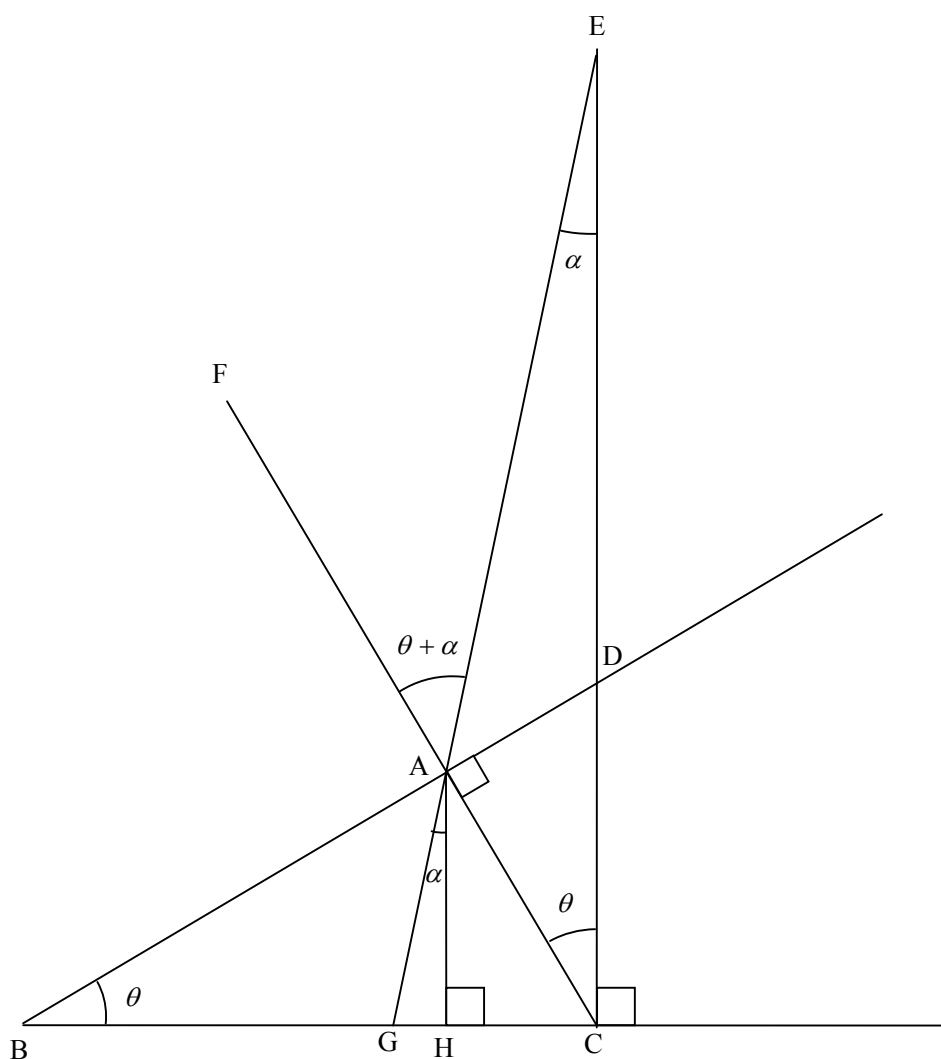
$$\text{①より、 } T = \frac{mg \sin \theta}{\sin(\theta + \alpha)}$$

これと②より、

$$\begin{aligned} P_1 &= mg \cos \theta - \frac{mg \sin \theta \cos(\theta + \alpha)}{\sin(\theta + \alpha)} \\ &= \frac{mg \{ \sin(\theta + \alpha) \cos \theta - \sin \theta \cos(\theta + \alpha) \}}{\sin(\theta + \alpha)} \\ &= \frac{mg \sin \{ (\theta + \alpha) - \theta \}}{\sin(\theta + \alpha)} \\ &= \frac{mg \sin \alpha}{\sin(\theta + \alpha)} \end{aligned}$$



## 解答編別解の解説補充



$\triangle DBC \sim \triangle DCA$  より,  $\angle DCA = \angle DBC = \theta$

よって,  $\triangle ECA$  の内角と外角の関係から,

$$\angle EAF = \angle ECA + \angle CEA = \theta + \alpha$$

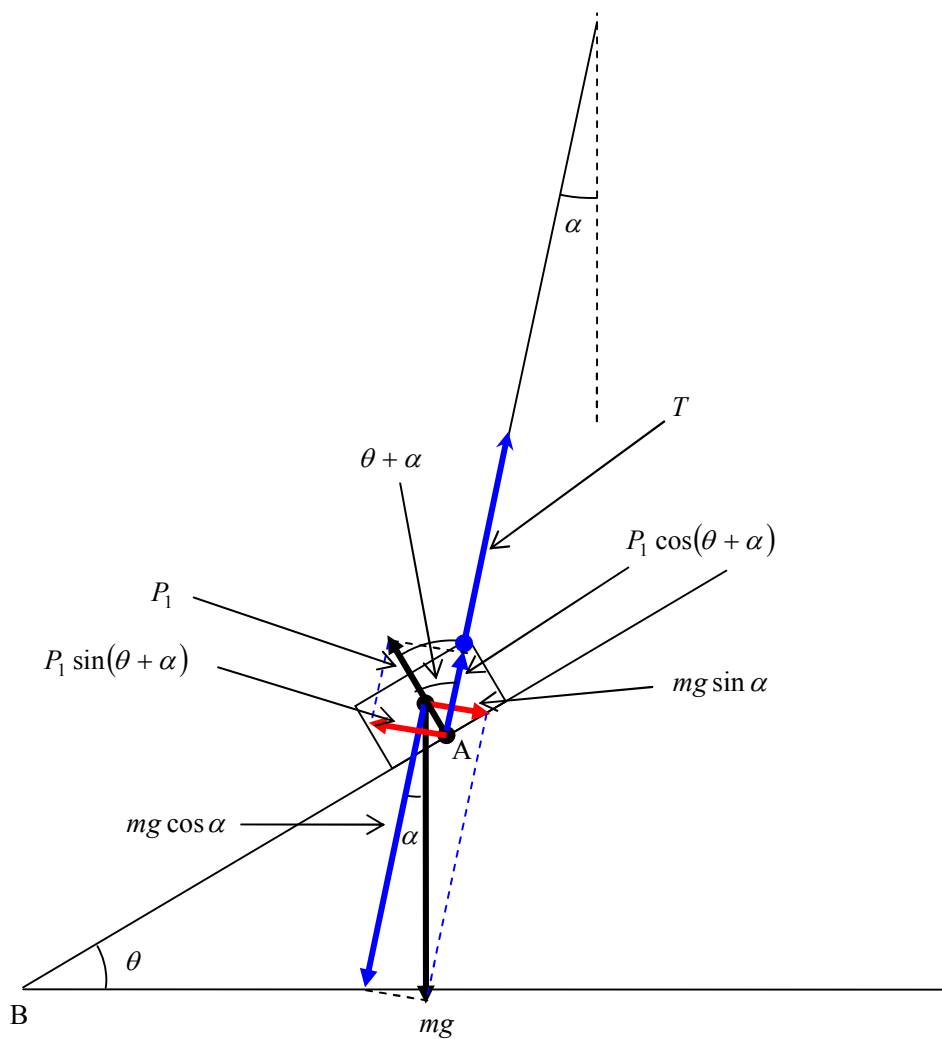
また,  $AH \parallel EC$  より,

$$\angle GAH = \angle GEC = \alpha$$

これをもとに力を図示すると、下図となる。

$$P_1 \sin(\theta + \alpha) = mg \sin \alpha \text{ より, } P_1 = \frac{mg \sin \alpha}{\sin(\theta + \alpha)}$$

$$\text{これと, } T + P_1 \cos(\theta + \alpha) = mg \cos \alpha \text{ より, } T = \frac{mg \sin \theta}{\sin(\theta + \alpha)}$$



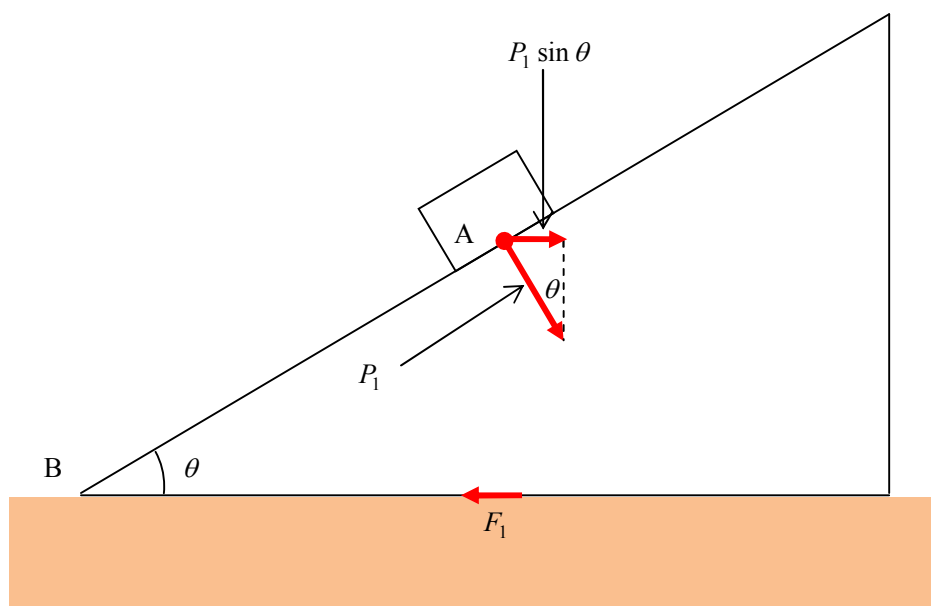
(2)

作用・反作用の関係より、台は小物体から大きさ  $P_1$  の垂直抗力を受ける。

よって、水平方向の力のつりあいより、

$$F_1 = P_1 \sin \theta$$

$$\therefore F_1 = \frac{mg \sin \alpha \sin \theta}{\sin(\theta + \alpha)}$$



(4)

同様に、

$$F_2 = P_2 \sin \theta$$

$$\therefore F_2 = mg \cos \theta \sin \theta$$

**補足**

$mg \cos \theta$  は小物体の重力の斜面に垂直な分力であり、

これと小物体が斜面から受ける垂直抗力がつりあうことで、小物体は斜面と接触している。

垂直抗力は作用・反作用の力だから、斜面は同じ大きさの垂直を小物体から受ける。

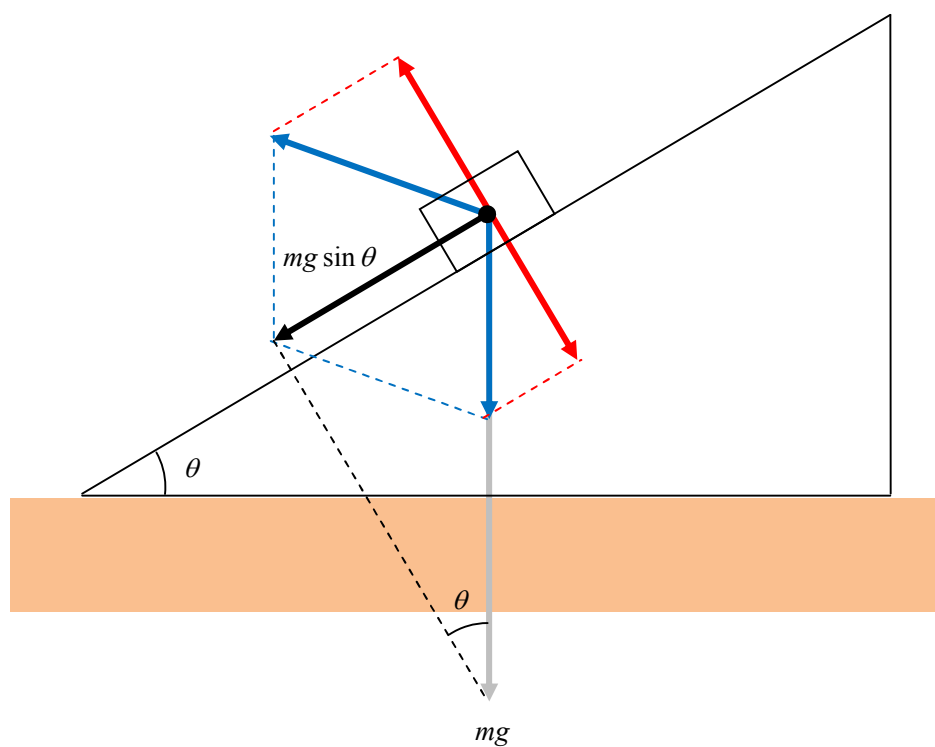
よって、

小物体の重力の斜面に垂直な分力の大きさ  $mg \cos \theta$

= 小物体が斜面から受ける垂直抗力の大きさ  $P_2$

= 斜面が小物体から受ける垂直抗力の大きさ  $P_2$

$mg \sin \theta$  は重力の斜面に沿った分力だから、  
 $mg \sin \theta$  をさらに任意の分力に分解したところで、  
斜面に垂直な分力のベクトル和は  $0$  になってしまう。  
つまり、小物体と台との間の抗力を考える上で関係のない力である。  
当たり前のことではあるが注意。



黒色ベクトルは  $mg$  の斜面に沿った分力ベクトルで、これを青色ベクトルに分解し、それぞれの斜面に垂直なベクトル成分（赤色）の和をとると、そのベクトル和は  $0$  である。