

## 数学 I ・ 数学 A

〔2〕 三角形に関する条件  $p$ ,  $q$ ,  $r$  を次のように定める。

$p$ : 三つの内角がすべて異なる

$q$ : 直角三角形でない

$r$ :  $45^\circ$  の内角は一つもない

条件  $p$  の否定を  $\bar{p}$  で表し、同様に  $\bar{q}$ ,  $\bar{r}$  はそれぞれ条件  $q$ ,  $r$  の否定を表すものとする。

(1) 命題「 $r \implies (p \text{ または } q)$ 」の対偶は「 $\boxed{\text{ク}} \implies \bar{r}$ 」である。

$\boxed{\text{ク}}$  に当てはまるものを、次の①～③のうちから一つ選べ。

- |                         |                               |
|-------------------------|-------------------------------|
| ① ( $p$ かつ $q$ )        | ④ ( $\bar{p}$ かつ $\bar{q}$ )  |
| ② ( $\bar{p}$ または $q$ ) | ③ ( $\bar{p}$ または $\bar{q}$ ) |

(2) 次の①～④のうち、命題「 $(p \text{ または } q) \implies r$ 」に対する反例となっている三角形は  $\boxed{\text{ケ}}$  と  $\boxed{\text{コ}}$  である。

$\boxed{\text{ケ}}$  と  $\boxed{\text{コ}}$  に当てはまるものを、①～④のうちから一つずつ選べ。ただし、 $\boxed{\text{ケ}}$  と  $\boxed{\text{コ}}$  の解答の順序は問わない。

- ① 直角二等辺三角形
- ② 内角が  $30^\circ$ ,  $45^\circ$ ,  $105^\circ$  の三角形
- ③ 正三角形
- ④ 三辺の長さが 3, 4, 5 の三角形
- ⑤ 頂角が  $45^\circ$  の二等辺三角形

(3)  $r$  は  $(p \text{ または } q)$  であるための  $\boxed{\text{サ}}$ 。

$\boxed{\text{サ}}$  に当てはまるものを、次の①～③のうちから一つ選べ。

- ① 必要十分条件である
- ② 必要条件であるが、十分条件ではない
- ③ 十分条件であるが、必要条件ではない
- ④ 必要条件でも十分条件でもない

(2)

( $p$  または  $q$ ) を満たす三角形で  $\bar{r}$  であるもの、  
すなわち、「 $45^\circ$  の内角が少なくとも一つある三角形」を選ぶ。

(3)

$p \cup q$  ならば  $r$  は(2)より偽であるから、

$r$  ならば  $p \cup q$  の真偽を判定すればよい。

しかし、この真偽を直接判定するのは困難なので、

この対偶をとって、その真偽を判定する。

つまり、 $\overline{p \cup q}$  ならば  $\bar{r}$  の真偽を判定する。

ここで、 $\overline{p \cup q} \equiv \bar{p} \cap \bar{q}$  より、三つの内角の少なくとも二つが同じかつ直角三角形

よって、 $\overline{p \cup q}$  を満たす三角形は直角二等辺三角形である。

これと  $\bar{r} \equiv$  「 $45^\circ$  の内角が少なくとも一つある。」より、 $\overline{p \cup q} \Rightarrow \bar{r}$

よって、 $r \Rightarrow p \cup q$

ゆえに、 $r$  は ( $p$  または  $q$ ) であるための十分条件であるが、必要条件ではない。

## 数学 I ・ 数学 A

## 第 2 問 (配点 25)

座標平面上にある点 P は、点 A(-8, 8) から出発して、直線  $y = -x$  上を  $x$  座標が 1 秒あたり 2 増加するように一定の速さで動く。また、同じ座標平面上にある点 Q は、点 P が A を出発すると同時に原点 O から出発して、直線  $y = 10x$  上を  $x$  座標が 1 秒あたり 1 増加するように一定の速さで動く。出発してから  $t$  秒後の 2 点 P, Q を考える。点 P が O に到達するのは  $t = \boxed{\text{ア}}$  のときである。以下、 $0 < t < \boxed{\text{ア}}$  で考える。

- (1) 点 P と  $x$  座標が等しい  $x$  軸上の点を P', 点 Q と  $x$  座標が等しい  $x$  軸上の点を Q' とおく。△OPP' と △OQQ' の面積の和  $S$  を  $t$  で表せば

$$S = \boxed{\text{イ}} t^2 - \boxed{\text{ウエ}} t + \boxed{\text{オカ}}$$

となる。これより  $0 < t < \boxed{\text{ア}}$  においては、 $t = \frac{\boxed{\text{キ}}}{\boxed{\text{ク}}}$  で  $S$  は最小値

$\frac{\boxed{\text{ケコサ}}}{\boxed{\text{シ}}}$  をとる。

(数学 I ・ 数学 A 第 2 問は次ページに続く。)

## 数学 I ・ 数学 A

次に、 $a$  を  $0 < a < \boxed{\text{ア}} - 1$  を満たす定数とする。以下、 $a \leq t \leq a + 1$  における  $S$  の最小・最大について考える。

(i)  $S$  が  $t = \frac{\boxed{\text{キ}}}{\boxed{\text{ク}}}$  で最小となるような  $a$  の値の範囲は

$$\frac{\boxed{\text{ス}}}{\boxed{\text{セ}}} \leq a \leq \frac{\boxed{\text{ソ}}}{\boxed{\text{タ}}} \text{ である。}$$

(ii)  $S$  が  $t = a$  で最大となるような  $a$  の値の範囲は  $0 < a \leq \frac{\boxed{\text{チ}}}{\boxed{\text{ツテ}}}$  である。

2) 3点  $O$ ,  $P$ ,  $Q$  を通る 2 次関数のグラフが関数  $y = 2x^2$  のグラフを平行移動

したものになるのは、 $t = \frac{\boxed{\text{ト}}}{\boxed{\text{ナ}}}$  のときであり、 $x$  軸方向に  $\frac{\boxed{\text{ニヌ}}}{\boxed{\text{ネ}}}$ ,

$y$  軸方向に  $\frac{\boxed{\text{ノハヒ}}}{\boxed{\text{フ}}}$  だけ平行移動すればよい。

(1)

(i)

$S$  の軸  $t = \frac{8}{7}$  が  $a \leq \frac{8}{7} \leq a+1$  を満たせばよいから、 $\frac{1}{7} \leq a \leq \frac{8}{7}$

(ii)

定義域の中点  $\frac{a+(a+1)}{2} = a + \frac{1}{2}$  であるから、 $S$  の軸  $t = \frac{8}{7}$  が  $a + \frac{1}{2} \leq \frac{8}{7}$  を満たせばよい。

これと  $a > 0$  より、 $0 < a \leq \frac{9}{14}$

(2)

$y = 2x^2$  を  $x$  軸方向に  $a$ 、 $y$  軸方向に  $b$  だけ平行移動した関数は  $y = 2(x-a)^2 + b$  と表せる。

これが原点  $O$  を通るから、 $0 = 2(0-a)^2 + b \quad \therefore b = -2a^2$

よって、 $y = 2(x-a)^2 + b$  は、 $y = 2x^2 - 4ax$  と変形できる。

これが  $Q(t, 10t)$  を通るから、 $10t = 2t^2 - 4at$

これと  $t \neq 0$  より、 $4a = 2t - 10$

よって、 $y = 2x^2 - 4ax$  はさらに、 $y = 2x^2 - 2(t-5)x$  と変形できる。

これが  $P(-8+2t, 8-2t)$  を通るから、

$$8-2t = 2(-8+2t)^2 - 2(t-5)(-8+2t)$$

$$\therefore 2t^2 - 13t + 20 = 0$$

これと  $0 < t < 4$  より、 $t = \frac{5}{2}$

$$4a = 2t - 10 \text{ より、} 4a = -5 \quad \therefore a = -\frac{5}{4}$$

$$b = -2a^2 \text{ より、} b = -\frac{25}{8}$$

## 数学 I ・ 数学 A

## 第 3 問 (配点 30)

点  $O$  を中心とする半径 3 の円  $O$  と、点  $O$  を通り、点  $P$  を中心とする半径 1 の円  $P$  を考える。円  $P$  の点  $O$  における接線と円  $O$  との交点を  $A, B$  とする。また、円  $O$  の周上に、点  $B$  と異なる点  $C$  を、弦  $AC$  が円  $P$  に接するようにとる。弦  $AC$  と円  $P$  の接点を  $D$  とする。このとき

$$AP = \sqrt{\boxed{\text{アイ}}}, \quad OD = \frac{\boxed{\text{ウ}} \sqrt{\boxed{\text{エオ}}}}{\boxed{\text{カ}}}$$

である。さらに、 $\cos \angle OAD = \frac{\boxed{\text{キ}}}{\boxed{\text{ク}}}$  であり、 $AC = \frac{\boxed{\text{ケコ}}}{\boxed{\text{サ}}}$  である。

$\triangle ABC$  の面積は  $\frac{\boxed{\text{シスセ}}}{\boxed{\text{ソタ}}}$  であり、 $\triangle ABC$  の内接円の半径は  $\frac{\boxed{\text{チ}}}{\boxed{\text{ツ}}}$  である。

る。

(数学 I ・ 数学 A 第 3 問は次ページに続く。)

## 数学 I ・ 数学 A

- (1) 円 O の周上に、点 E を線分 CE が円 O の直径となるようにとる。△ABC の内接円の中心を Q とし、△CEA の内接円の中心を R とする。このとき、

$$QR = \frac{\boxed{\text{テト}}}{\boxed{\text{ナ}}}$$

である。したがって、内接円 Q と内接円 R は  $\boxed{\text{ニ}}$ 。

$\boxed{\text{ニ}}$  に当てはまるものを、次の①～③のうちから一つ選べ。

- |        |               |
|--------|---------------|
| ① 内接する | ④ 異なる 2 点で交わる |
| ② 外接する | ③ 共有点を持たない    |

(2)  $AQ = \frac{\boxed{\text{ヌ}}}{\boxed{\text{ハ}}} \sqrt{\frac{\boxed{\text{ネノ}}}{\boxed{\text{ハ}}}}$  であるから、 $PQ = \frac{\sqrt{\frac{\boxed{\text{ヒフ}}}{\boxed{\text{ハ}}}}}{\boxed{\text{ヘ}}}$  となる。

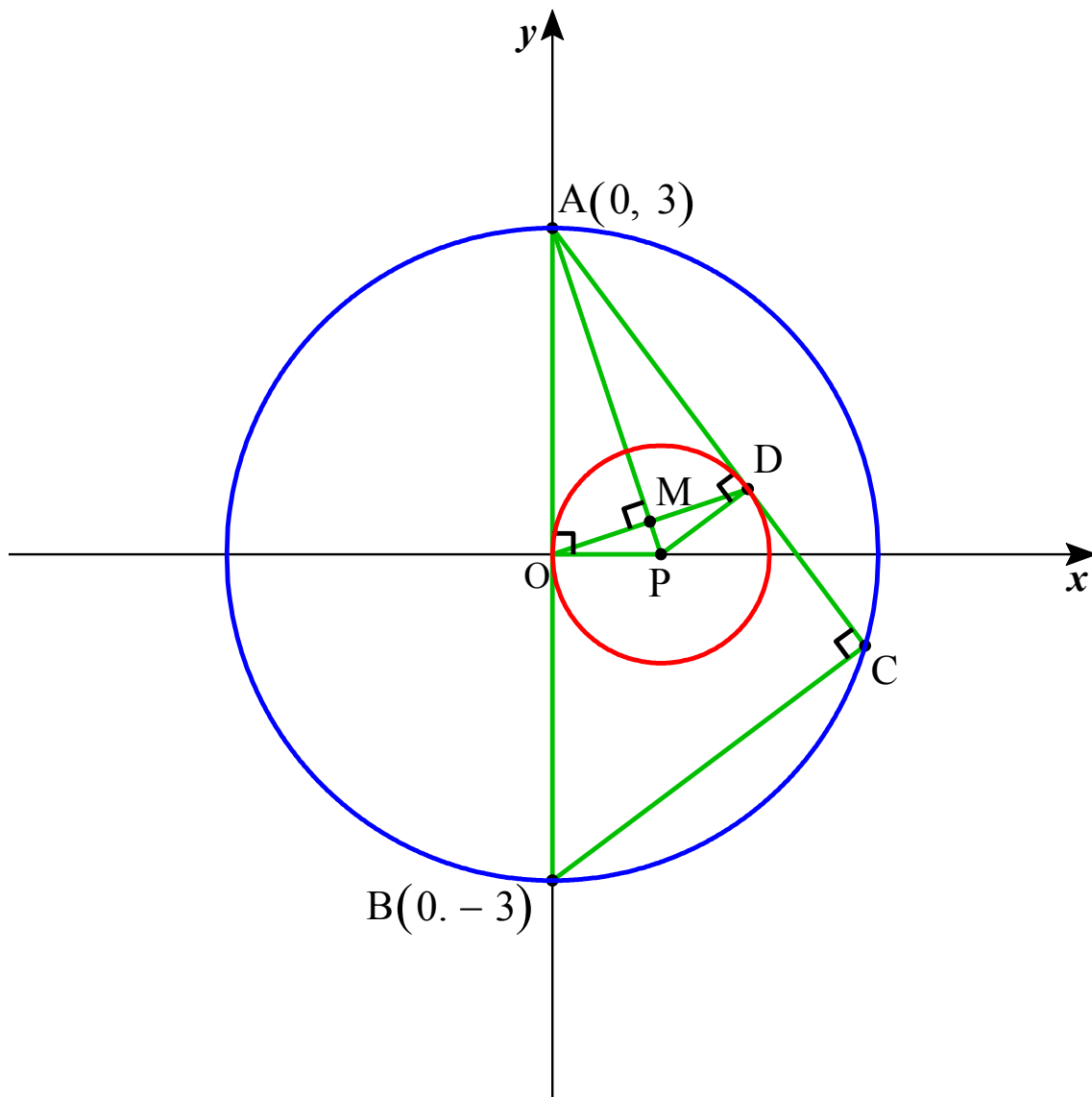
したがって、 $\boxed{\text{ホ}}$ 。

$\boxed{\text{ホ}}$  に当てはまるものを、次の①～③のうちから一つ選べ。

- ① 点 P は内接円 Q の周上にある
- ② 点 Q は円 P の周上にある
- ③ 点 P は内接円 Q の内部にあり、点 Q は円 P の内部にある
- ④ 点 P は内接円 Q の内部にあり、点 Q は円 P の外部にある

ポイント：図形と方程式でも処理できるよう，図形を座標平面上に表す。

$xy$  直交座標平面上に 2 円  $x^2 + y^2 = 9$  と  $(x-1)^2 + y^2 = 1$  を描き，前者を円 O，後者を円 P とする。すると， $O(0,0)$ ， $P(1,0)$  また， $A(0,3)$ ， $B(0,-3)$ ，OD の中点を M とする。



**AP**

直角三角形 APB について，三平方の定理より， $AP = \sqrt{AO^2 + OP^2} = \sqrt{10}$

**OD**

$\triangle APO \sim \triangle AOM$  より， $PO : OM = AP : AO = \sqrt{10} : 3 \quad \therefore OM = \frac{3PO}{\sqrt{10}} = \frac{3}{\sqrt{10}} = \frac{3\sqrt{10}}{10}$

よって， $OD = 2OM = \frac{3\sqrt{10}}{5}$



**cos∠OAD**

△AOD について、余弦定理より、 $OD^2 = AO^2 + AD^2 - 2AO \cdot AD \cos \angle OAD$

$$\begin{aligned} \therefore \cos \angle OAD &= \frac{AO^2 + AD^2 - OD^2}{2AO \cdot AD} \\ &= \frac{9 + 9 - \frac{18}{5}}{2 \cdot 3 \cdot 3} \\ &= \frac{4}{5} \end{aligned}$$

**AC**

∠C は直径の円周角だから、△ABC は ∠C = 90° の直角三角形である。

よって、

$$\begin{aligned} AC &= AB \cos \angle OAD \\ &= 6 \cdot \frac{4}{5} = \frac{24}{5} \end{aligned}$$

**△ABC の面積**

$$\begin{aligned} \sin \angle OAD &= \sqrt{1 - \cos^2 \angle OAD} \\ &= \frac{3}{5} \end{aligned}$$

より、△ABC の面積は、

$$\begin{aligned} \frac{1}{2} AB \cdot AC \cdot \sin \angle OAD &= \frac{1}{2} \cdot 6 \cdot \frac{24}{5} \cdot \frac{3}{5} \\ &= \frac{216}{25} \end{aligned}$$

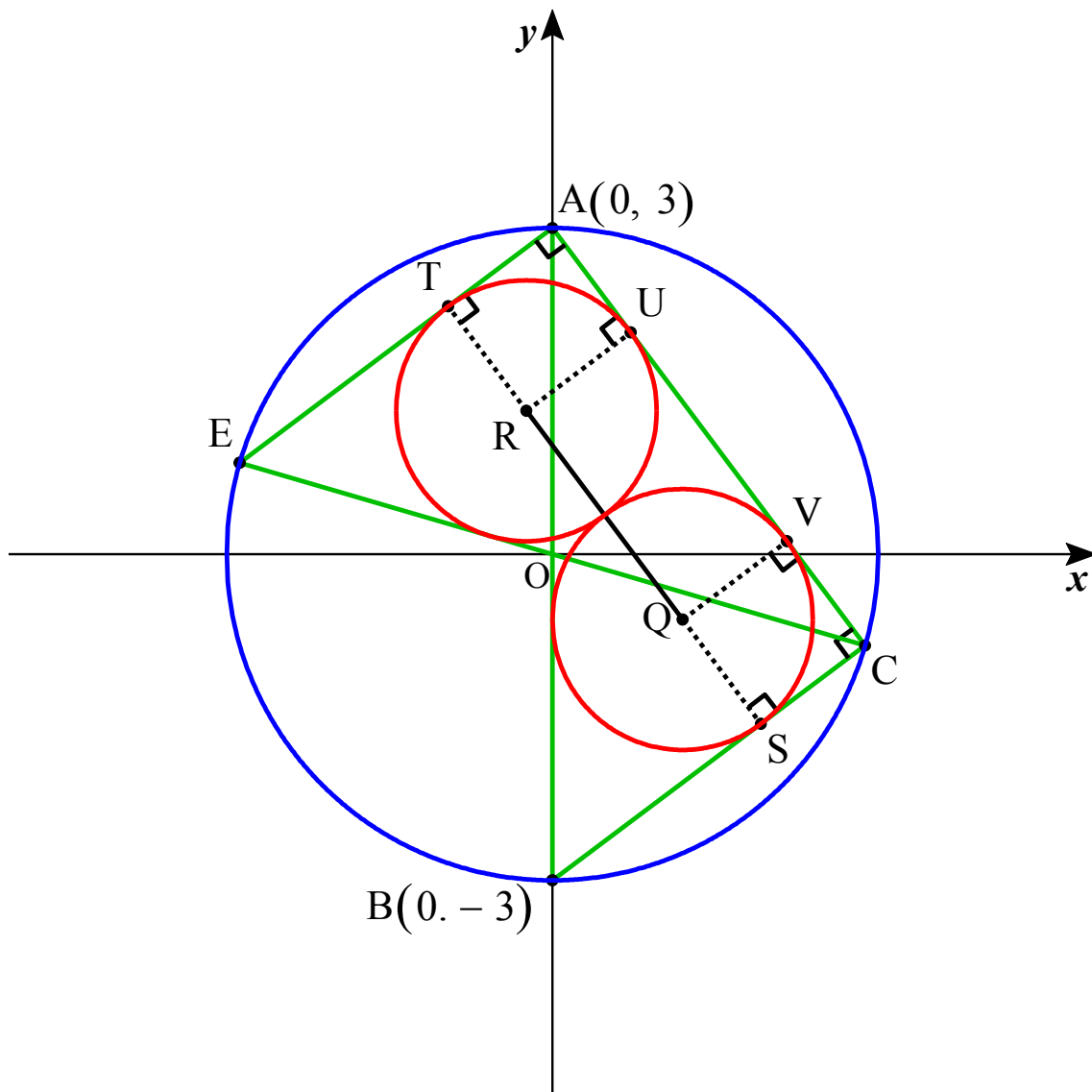
**△ABC の内接円の半径**

△ABC の内接円の半径を  $r$  とすると、△ABC の面積は  $r$  を用いて、

$$\begin{aligned} \frac{r}{2} (AB + BC + CA) &= \frac{r}{2} \left( 6 + AB \sin \angle OAD + \frac{24}{5} \right) \\ &= \frac{r}{2} \left( 6 + 6 \cdot \frac{3}{5} + \frac{24}{5} \right) \\ &= \frac{36r}{5} \end{aligned}$$

$$\triangle ABC \text{ の面積} = \frac{216}{25} \text{ より, } \frac{36}{5} r = \frac{216}{25} \quad \therefore r = \frac{6}{5}$$

(1)



**QR**

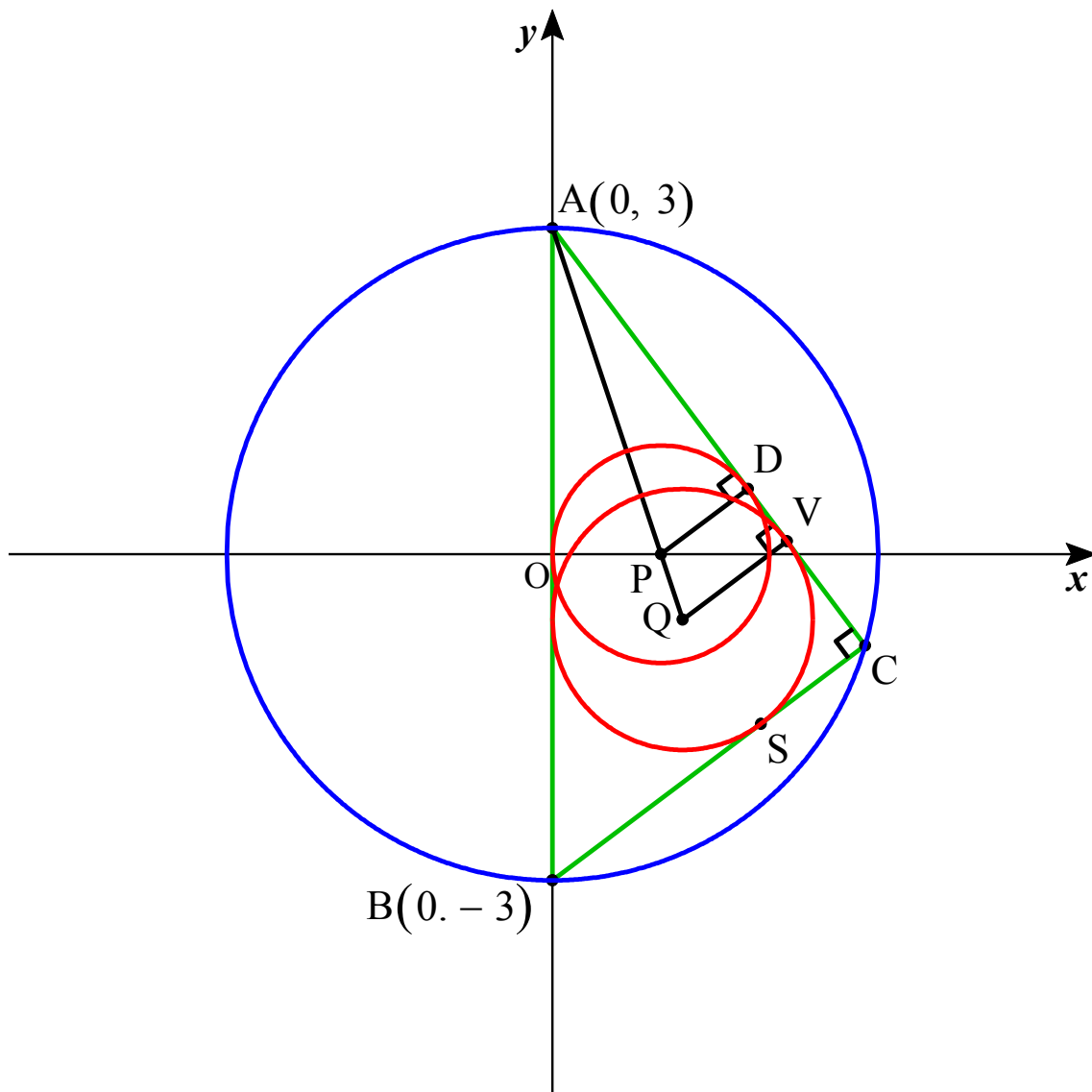
$\triangle ABC \equiv \triangle CEA$  より, 両内接円の半径はいずれも  $\frac{6}{5}$  である。

よって, 上図より,  $QR = AC - (AC + CV) = AC - 2 \cdot \frac{6}{5} = \frac{12}{5}$

**内接円 Q と内接円 R**

外接する。

(2)



**AQ**

$$\triangle APD \sim \triangle A Q V \text{ より, } AP : AQ = PD : QV = 1 : \frac{6}{5}$$

$$\text{これと } AP = \sqrt{10} \text{ より, } AQ = \frac{6\sqrt{10}}{5}$$

**PQ**

$$PQ = AQ - AP = \frac{6\sqrt{10}}{5} - \sqrt{10} = \frac{\sqrt{10}}{5}$$